

Rallye photos

L'eau

Cycles 3, 6<sup>ème</sup>  
et 5<sup>ème</sup>



Rallye photos  
**L'eau dans les cours et jardins**

Niveau : cycle 3, 6<sup>ème</sup> et 5<sup>ème</sup>

Lieu : cours et jardins

Durée : 1h à 1h30 selon le niveau

Matériel pour un groupe : se munir des 12 cartes, d'un plan et d'un crayon.

Matériel accompagnateur : plan accompagnateur avec réponses.

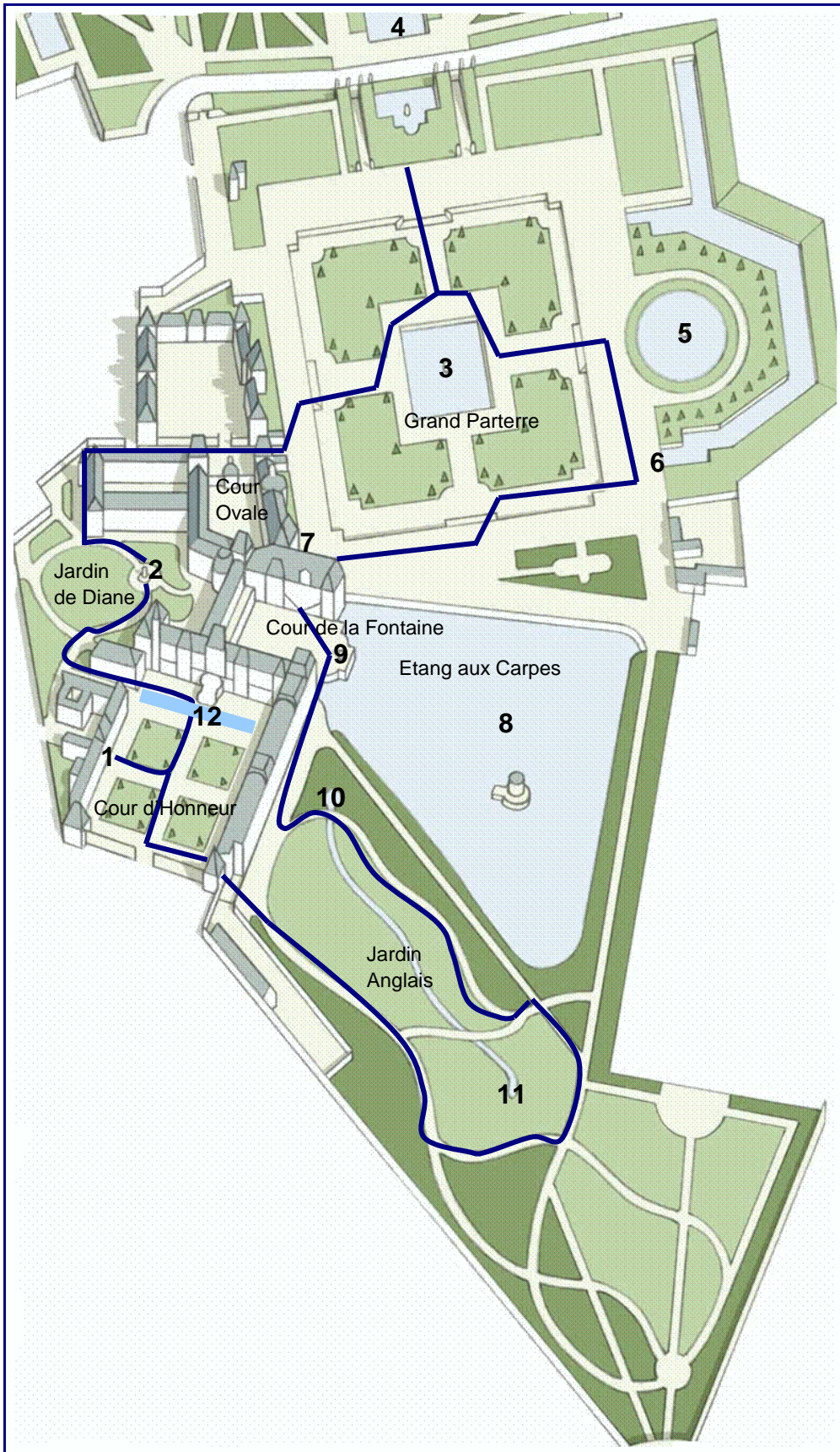
Préparation : imprimer le plan et les cartes. Plier en deux chaque page pour obtenir un recto-verso.

Déroulement :

- Constituer des groupes (idéalement 4 à 6 élèves et 1 accompagnateur) ;
- L'accompagnateur explique aux enfants qu'ils vont partir sur les traces d'éléments liés à l'eau, dans les cours et jardins du château.
- Les enfants retrouvent la vue générale du recto, reportent sur le plan le numéro de la photo à l'endroit correspondant puis répondent aux questions (oralement, puis reprise lors de la correction générale par l'enseignant).
- NB : Un parcours indicatif est signalé sur le plan par le tracé bleu.

# Château de Fontainebleau

## Plan accompagnateur : circuit et emplacement des photos



# Château de Fontainebleau

## Fiche questions/réponses accompagnateur

### **Question 1 : Retrouvez et placez la salamandre sur le plan.**

#### **Cour d'Honneur**

De quel roi la salamandre est-elle l'emblème ?

#### **Réponse :**

**La salamandre est l'emblème de François I<sup>er</sup>.**

**C'est un amphibien vivant en milieu humide, de couleurs jaune et noire, que l'on peut retrouver notamment en forêt de Fontainebleau.**

### **Question 2 : Retrouvez et placez la statue sur le plan.**

#### **Jardin de Diane**

1) Quels sont les attributs de cette déesse ?

**Un croissant de lune, un carquois et ses flèches.**

2) Quel est son nom ?

**Diane est la déesse de la chasse, elle règne sur la nuit (cf. croissant de lune) et la forêt.**

3) Quel est le lien avec Fontainebleau ?

**La déesse Diane a toute sa place à Fontainebleau, résidence royale fréquentée chaque automne par les souverains pour y pratiquer la chasse.**

### **Question 3 : Retrouvez l'emplacement de la fontaine.**

#### **Grand Parterre**

Le jardin dans lequel vous vous trouvez se nomme le Grand Parterre. Celui-ci fut réalisé par un célèbre jardinier qui a également travaillé pour Louis XIV dans les jardins du château de Versailles.

Connaissez-vous son nom ?

#### **Réponse :**

**André Le Nôtre**

### **Question 4 : Retrouvez l'emplacement du canal.**

#### **Grand Parterre (vue sur le Parc)**

Le grand canal vit le jour en 1609 selon le désir d'Henri IV. Il se passionna pour cet ouvrage de 1,2 km de long et paria avec le maréchal de Bassompierre qu'il serait rempli en deux jours. Le grand canal le fut en plus de huit. Le roi perdit alors mille écus.

### **Question 5 : Retrouvez l'emplacement de la statue.**

#### **Grand Parterre**

Une statue représentant le Tibre, fleuve italien, ornait au XVII<sup>ème</sup> siècle, le centre de cette fontaine. Après avoir disparue à la Révolution, on réalisa à partir de la statue originale du Louvre une copie qui trône aujourd'hui au milieu de ce bassin.

# Château de Fontainebleau

**Question 6 : Retrouvez cette photo.**

**Grand Parterre**

A quoi pouvez servir la pièce d'eau cachée ?

- de lavoir pour les paysans ?
- de clôture pour se protéger des intrusions ?
- de piscine pour la noblesse ?

**Réponse : De clôture.**

**Question 7 : Retrouvez cet élément.**

**Côté Grand Parterre**

Savez-vous quels sont les enfants du royaume que l'on nommait dauphin ?

**Réponse :**

**Le fils aîné du roi de France destiné à devenir roi à son tour.**

**Question 8 : Retrouvez l'emplacement du pavillon.**

**Etangs aux Carpes**

Cet étang, orné d'un pavillon central, est depuis toujours un espace privilégié pour l'organisation de grandes fêtes. Par exemple la scène ici reproduite se déroule sous le Second Empire. Il est peuplé de carpes. Déjà, au XVII<sup>ème</sup> siècle, des carpes avaient été offertes par le duc Charles de Lorraine au roi Henri IV.

**Question 9 : Retrouvez et placez cette fontaine sur le plan.**

**Cour de la Fontaine.**

**Selon vous, qui est représenté sur cette fontaine ?**

Indice : son attribut est la massue et il est célèbre pour avoir réalisé douze travaux.

**Réponse :**

**Hercule**

**Question 10 : Retrouvez l'emplacement du rocher.**

**Jardin Anglais**

Selon vous la rivière et les rochers sont-ils naturels ou artificiels ?

**Réponse :**

**Artificiels.**

# Château de Fontainebleau

## **Question 11 : Retrouvez l'emplacement de la fontaine.**

### **Jardin Anglais**

D'après vous, parmi ces trois propositions, laquelle est à l'origine du nom de Fontainebleau ?

- proposition n°1 : François 1<sup>er</sup>, de passage à Fontainebleau, glissa dans les marécages et se retrouva la tête dans l'eau. À la surprise des soldats qui l'accompagnaient, il resta calme et s'exclama avec humour, lorsqu'il réussit à se relever, « Mais quelle belle eau ! ». On nomma alors le lieu « Fontaine Belle Eau » qui devint avec le temps Fontainebleau.

- proposition n°2 : Véritable repaire de blaireaux, le site, qui disposait d'une belle source d'eau, a toujours été appelé lieu-dit de la fontaine des blaireaux. Avec le temps et la contraction du mot, la Fontaine des Blaireaux devint Fontainebleau.

- proposition n°3 : Le nom de la ville de Fontainebleau viendrait du chien Bliou, appartenant à un garde forestier, qui aurait découvert dans la forêt une fontaine. On nomma alors le lieu « la fontaine de Bliou » qui aurait donné avec le temps Fontainebleau.


**Réponse : La proposition 3 est la bonne légende.**

## **Question 12: Retrouvez au sol les traces de ce fossé aujourd'hui disparu et reproduisez-le au crayon.**

### **Cour d'Honneur**

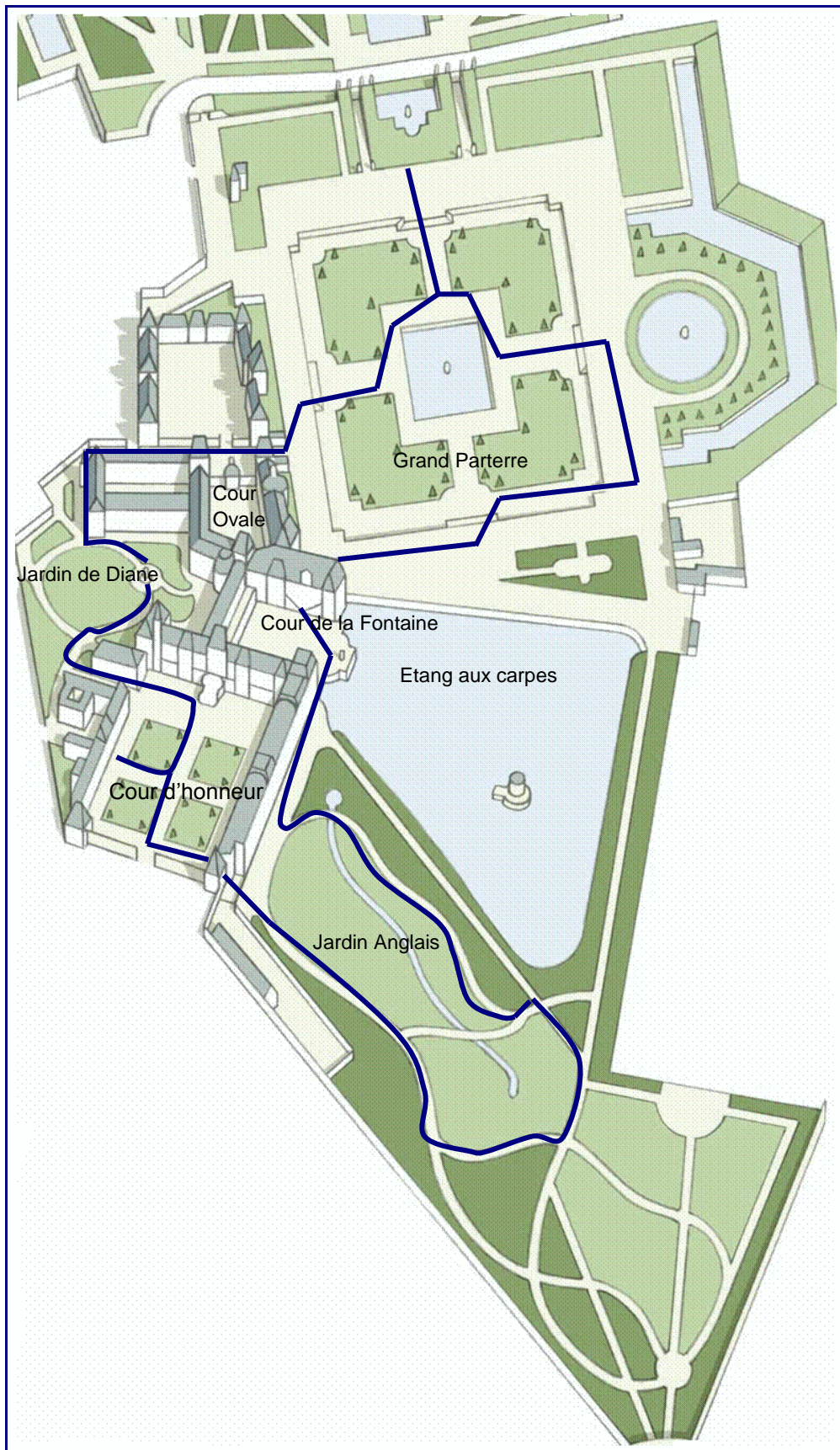
- Quelle était la fonction de ce fossé ?

**Réponse : Le fossé protégeait le château au XVI<sup>ème</sup> siècle.**



# Château de Fontainebleau

## L'eau dans les jardins : plan jeu



## Château de Fontainebleau



### Question 1 Cour d'Honneur

Retrouvez et placez la salamandre sur le plan.  
Notez "1" sur le plan.

**De quel roi la salamandre est-elle l'emblème ?**

C'est un amphibien vivant en milieu humide, de couleurs jaune et noire, que l'on peut la retrouver notamment en forêt de Fontainebleau.



## Château de Fontainebleau




### Question 2 Jardin de Diane

Retrouver l'emplacement de la fontaine.  
Notez "2" sur le plan.

- 1) Quels sont les attributs de cette déesse ?
- 2) Quel est son nom ?
- 3) Quel est le lien avec Fontainebleau ?

## Château de Fontainebleau




### Question 3 Grand Parterre

**Retrouvez l'emplacement de la fontaine.  
Notez "3 " sur le plan.**

La partie du jardin dans lequel vous vous trouvez se nomme le Grand Parterre. Celui-ci fut réalisé par un célèbre jardinier qui a également travaillé pour Louis XIV dans les jardins du château de Versailles.

**Connaissez-vous son nom?**

## Château de Fontainebleau



### Question 4 Vue du canal (Grand Parterre)

**Retrouvez l'emplacement du canal.  
Notez "4" sur le plan.**

Le grand canal vit le jour en 1609 selon le désir d'Henri IV. Il se passionna pour cet ouvrage de 1,2 km de long et paria avec le maréchal de Bassompierre qu'il serait rempli en deux jours. Le grand canal le fut en plus de huit. Le roi perdit alors mille écus.

## Château de Fontainebleau



### Question 5 Grand Parterre

**Retrouvez l'emplacement de la statue.  
Notez "5" sur le plan.**

Une statue représentant le Tibre, fleuve italien, ornait au XVII<sup>ème</sup> siècle le centre de cette fontaine. Après avoir disparue à la Révolution, on réalisa à partir de la statue originale du Louvre une copie placée aujourd'hui au milieu de ce bassin.

## Château de Fontainebleau



### Question 6 Grand Parterre

Retrouvez cette photo.  
Notez "6" sur le plan.

A quoi pouvez servir la pièce d'eau cachée ?

- de lavoir pour les paysans ?
- de clôture pour se protéger des intrusions ?
- de piscine pour la noblesse ?

Château  
de Fontainebleau




Question 7  
Côté Grand Parterre

Retrouvez cet élément.  
Notez "7" sur le plan.

C'est la représentation symbolique d'un dauphin.

Savez-vous quels sont les enfants du royaume que l'on nommait Dauphin ?

## Château de Fontainebleau



### Question 8 Etang des Carpes

**Retrouvez l'emplacement du pavillon.  
Notez "8" sur le plan.**

Cet étang, orné d'un pavillon central, est depuis toujours un espace privilégié pour l'organisation de grandes fêtes. Par exemple la scène ici reproduite se déroule sous le Second Empire.

L'étang est peuplé de carpes. Déjà, au XVII<sup>ème</sup> siècle, des carpes avaient été offertes par le duc Charles de Lorraine au roi Henri IV.

Château  
de Fontainebleau



Question 9  
Cour de la Fontaine

Placez la fontaine sur le plan.  
Notez "9" sur le plan.

**Selon vous, qui est représenté sur cette fontaine?**

*Indice:* son attribut est la massue et il est célèbre pour avoir réalisé douze travaux.



## Château de Fontainebleau



### Question 10 Jardin Anglais

**Retrouvez l'emplacement du rocher.  
Notez "10" sur le plan.**

**Selon-vous la rivière et les rochers sont-ils naturels ou artificiels ?**

Le jardin anglais fût réalisé à partir de 1811 (sur un terrain d'entraînement militaire) à une époque où la mode était à ce type de jardin. Napoléon s'insurgea contre : «...la futilité des jardins à l'anglaise et contre la sottise de ces propriétaires qui emploient leur fortune à faire des petits lacs, des petits rochers, des petites rivières... Ces niaiseries sont des caprices de banquiers, mon jardin anglais c'est la forêt de Fontainebleau et je n'en veux pas d'autre ». Pourtant c'est bien lui qui le commande.

## Château de Fontainebleau



### Question 11 Jardin Anglais

**Retrouvez l'emplacement de la fontaine.  
Notez "11" sur le plan.**

**D'après vous, parmi ces trois propositions, laquelle est à l'origine du nom de Fontainebleau?**

#### Proposition 1

François 1<sup>er</sup>, de passage à Fontainebleau, glissa dans les marécages et se retrouva la tête dans l'eau. A la surprise des soldats qui l'accompagnaient, il resta calme et s'exclama avec humour, lorsqu'il réussit à se relever, «quelle belle eau!». On nomma alors le lieu «Belle Eau» qui devint avec le temps Fontainebleau.

#### Proposition 2


Véritable repaire de blaireaux, le site, qui disposait d'une belle source d'eau, a toujours été appelé lieu-dit de la fontaine des blaireaux. Avec le temps et la contraction du mot, la Fontaine des Blaireaux devint Fontainebleau.

#### Proposition 3

Le nom de la ville de Fontainebleau viendrait du chien Bliou, appartenant à un garde forestier, qui aurait découvert dans la forêt une fontaine.

On nomma alors le lieu « fontaine de Bliou » qui aurait donné avec le temps Fontainebleau.

## Château de Fontainebleau



### Question 12 : Cour d'Honneur

Retrouvez au sol les traces de ce fossé aujourd'hui disparu  
et reproduisez-le au crayon.  
Notez "12" sur le plan.

Quelle était la fonction de ce fossé ?