

Rallye photos

Sur les pas des souverains...

Chiffres et emblèmes dans les cours et jardins



Cycle 3, 6^{ème} et 5^{ème}

Rallye photos
Sur les pas des souverains...
Chiffres et emblèmes dans les cours et jardins

Niveau : cycle 3, 6^{ème} et 5^{ème}

Lieu : cours et jardins

Durée : 1h à 1h30 selon le niveau

Matériel pour un groupe : se munir des 12 cartes, d'un plan et d'un crayon.

Matériel accompagnateur : plan accompagnateur avec réponses.

Préparation : imprimer le plan et les cartes. Plier en deux chaque page (sur les pointillés) pour obtenir un recto-verso.

Déroulement :

- Constituer des groupes (idéalement 4 à 6 élèves et l'accompagnateur) ;
- But du jeu : retrouver les chiffres et emblèmes et les associer au souverain auquel ils appartiennent ;

Définitions à donner aux élèves :

Le **chiffre** est la signature des souverains (rois ou empereurs). Il est souvent la première lettre de leur prénom. Il peut être mêlé à celui de leur épouse.

L'**emblème** est un animal ou un objet que les rois ont choisi pour se représenter.

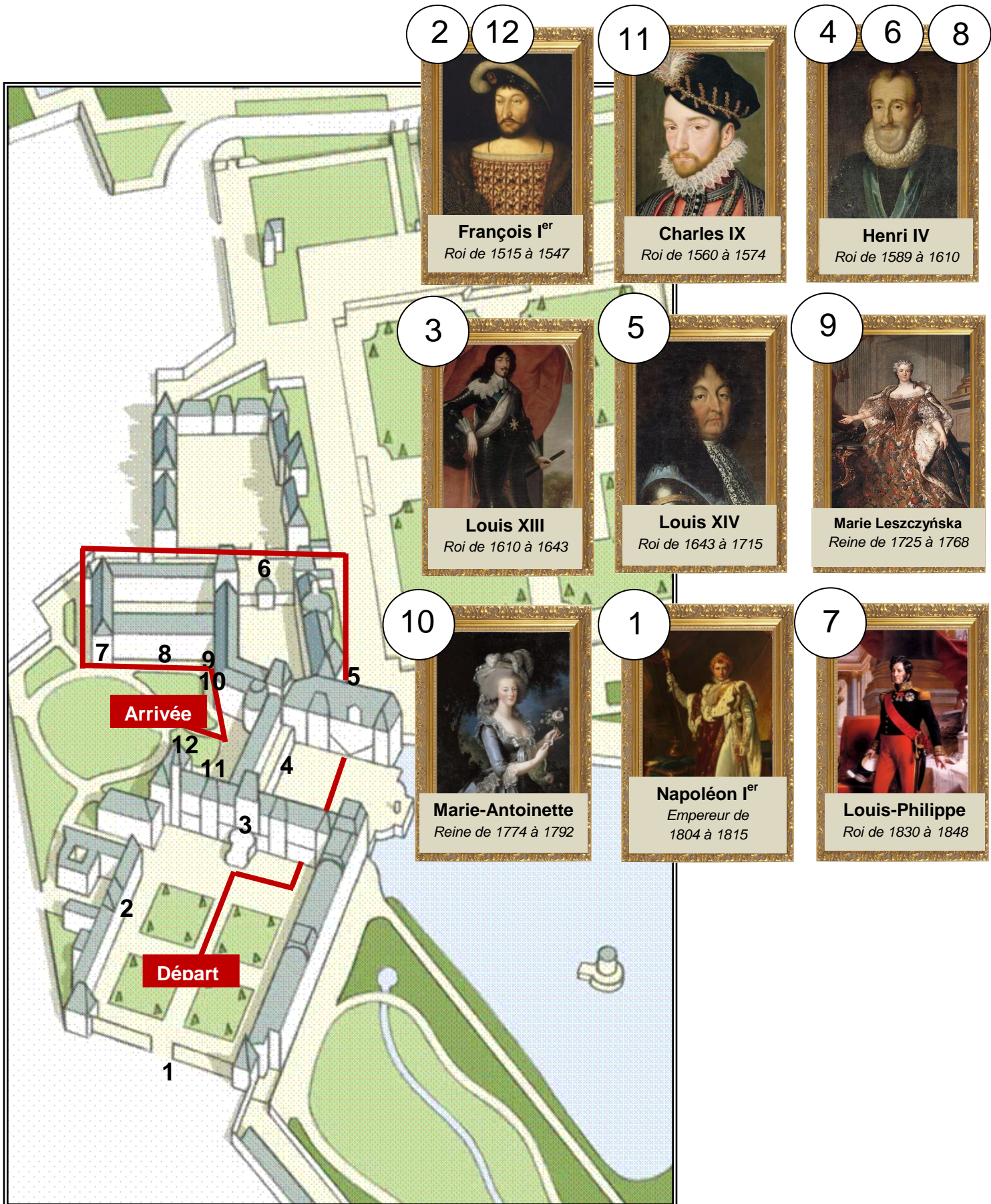
- Les enfants doivent retrouver la vue générale du recto, puis le chiffre et/ou l'emblème du souverain au verso. Ils reportent ensuite le numéro sur le plan et sur le portrait du souverain ;

Attention on retrouve le chiffre d'un même souverain plusieurs fois.

NB : le parcours est indiqué sur le plan par le tracé rouge.


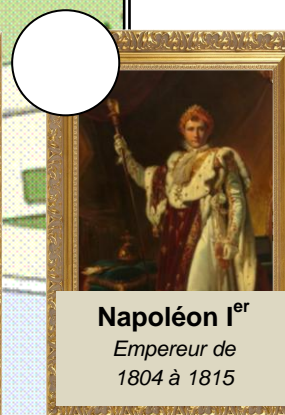
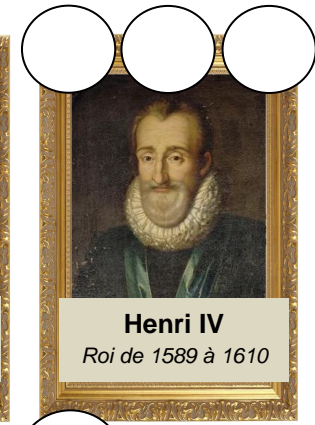
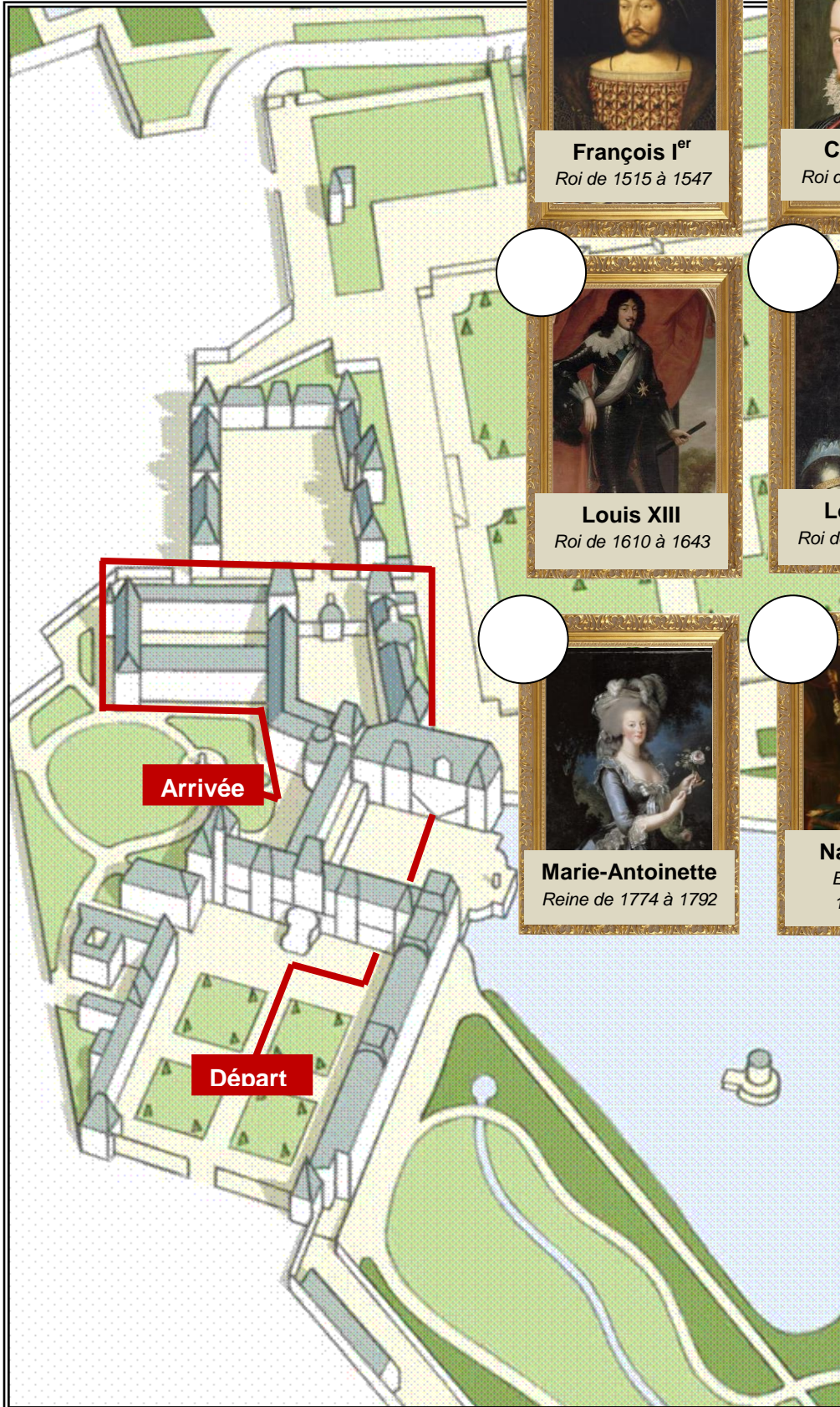
Château de Fontainebleau

Plan accompagnateur des cours et jardins : circuit et emplacements des chiffres et emblèmes.



Château de Fontainebleau

Plan jeu



Château de Fontainebleau



1

J'ai entrepris de grands travaux au château de Fontainebleau. On me doit d'ailleurs cette cour. Vous y trouverez mon chiffre et mon emblème.



Château de Fontainebleau



*J'ai commandé la grille d'honneur par
laquelle vous êtes entrés.
Où sont mon chiffre et mon emblème ?*



Château de Fontainebleau



*Cet escalier était en piteux état, je
l'ai fait reconstruire. Mon chiffre
témoigne de ces travaux.*



Château de Fontainebleau



4



Château de Fontainebleau



5

On me doit les jardins à la française mais j'ai aussi modifié cette porte : j'ai fait inscrire mon chiffre et celui de mon épouse Marie-Thérèse. Ils sont entrelacés.



Château
de Fontainebleau
Château
de Fontainebleau



*C'est encore moi ! Et oui j'ai
beaucoup bâti à Fontainebleau !
On retrouve mon chiffre lié à celui
de mon épouse Marie de Médicis.*



Château
de Fontainebleau



7

*Retrouvez deux fois mon chiffre
sur ce pavillon.*



Château de Fontainebleau



*Encore un bâtiment que j'ai fait
bâtir. Mon chiffre est dans les
moindres détails !*



Château de Fontainebleau



9

*Je suis l'épouse de Louis XV. Mon
boudoir, pièce où j'aimais me reposer et
m'isoler, se cache dans ce bâtiment.
Retrouvez-le en cherchant mon chiffre
fait d'un M et d'un L entrelacés.*



Château de Fontainebleau



10

Mon époux Louis XVI m'a offert un boudoir, situé au deuxième étage. Il est signalé par mon chiffre composé d'un M et d'un A entrelacés.



Château de Fontainebleau



11

Cette façade est celle de la chapelle de la Trinité. Refaite sous mon règne, mon chiffre composé de deux C entrelacés est placé sur les chapiteaux.



Château de Fontainebleau



*Vous rappelez-vous de moi ?
J'ai fait construire ce pavillon et
choisi comme entrée une porte
avec deux personnages
égyptiens. Deux anges tiennent
mon chiffre.*

?

